

20. NÚMERO DE EDIFICIOS

Número de edificios: _____

21. NÚMERO DE PISOS DE CADA EDIFICIO

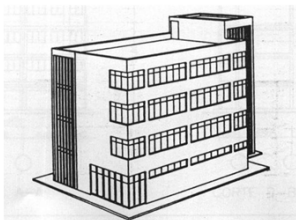
Edificio 1: _____ Edificio 2: _____ Edificio 3: _____ Edificio 4: _____
Edificio 5: _____ Edificio 6: _____ Edificio 7: _____ Edificio 8: _____

22. ESTIME EL AÑO DE CONSTRUCCIÓN DE CADA EDIFICIO

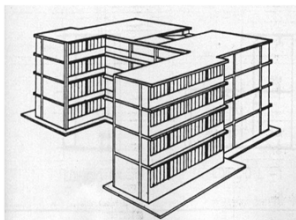
Edificio 1: _____ Edificio 2: _____ Edificio 3: _____ Edificio 4: _____
Edificio 5: _____ Edificio 6: _____ Edificio 7: _____ Edificio 8: _____

23. TIPO DE CONSTRUCCIÓN DE CADA EDIFICIO

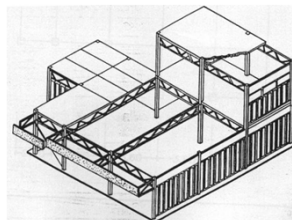
Edificio 1: _____ Edificio 2: _____ Edificio 3: _____ Edificio 4: _____
Edificio 5: _____ Edificio 6: _____ Edificio 7: _____ Edificio 8: _____



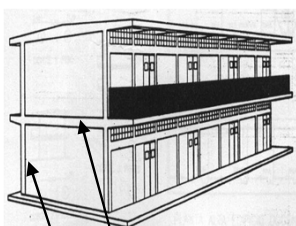
Tipo 1



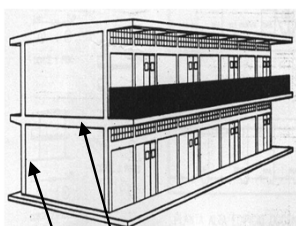
Tipo 2



Tipo 3



Tipo 4
(Columnas y Vigas de Concreto)



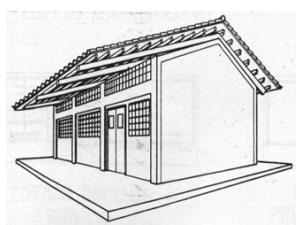
Tipo 5
(Columnas y Vigas metálicas)



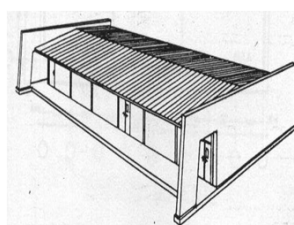
Tipo 6
(concreto, metal)




Tipo 7



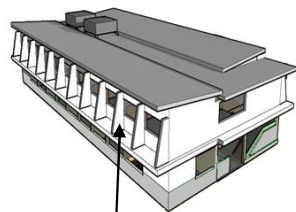
Tipo 8



Tipo 9



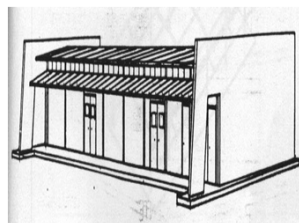
Tipo 10



Tipo 11
(Parasoles)



Tipo 12
(Rural)



Tipo 13
(Rural modificado)

Tipo 14
(Otros)